

ВСЕРОССИЙСКАЯ ОЛИМПИАДА ШКОЛЬНИКОВ
ОБЩЕСТВОЗНАНИЕ. 2024–2025 уч. г.
ШКОЛЬНЫЙ ЭТАП. 11 КЛАСС

Ответы
ПЕРВЫЙ ТУР

Задание 1. Установите истинность или ложность суждений.

Обозначьте «да» истинные суждения, «нет» – ложные. Ответы внесите в таблицу.

- 1.1. В современном мире более не существует абсолютных монархий.
- 1.2. Единственным источником власти в РФ является ее многонациональный народ.
- 1.3. Основным компонентом любой социальной роли является социальная санкция, следующая в случае её невыполнения.
- 1.4. Человек может играть несколько социальных ролей одновременно.
- 1.5. Товарами Гиффена называются товары, спрос на которые растёт даже при повышении цены на них.
- 1.6. От непредвиденного увеличения инфляции страдают заемщики капитала.
- 1.7. Вертикальная мобильность может осуществляться вопреки желанию человека.
- 1.8. Деятельность движения суфражисток является примером проявления гражданского общества.
- 1.9. В соответствии с прагматической концепцией истины, истина представляет собой результат соглашения между учеными.
- 1.10. В рыночной экономике невозможна ситуация, когда какой-либо товар продается по цене, меньшей, чем издержки его производства.

Ответ:

1.1	1.2	1.3	1.4	1.5	1.6	1.7	1.8	1.9	1.10
нет	да	нет	да	да	нет	да	да	нет	нет

По 1 баллу за каждый верный ответ. Максимум за задание – 10 баллов

Задание 2. Из приведенного перечня выделите полномочия, НЕ относящиеся к ведению Государственной Думы Федерального собрания РФ:

- А) осуществление помилования;
- Б) решение вопроса о доверии Правительству РФ;
- В) назначение выборов Президента РФ;
- Г) принятие федеральных законов;

- Д) утверждение указа Президента РФ о введении чрезвычайного положения;
- Е) назначение на должность и освобождение от должности Председателя Центрального банка РФ;
- Ж) утверждение изменения границ между субъектами РФ;
- З) назначение на должность и освобождение от должности Председателя Счетной палаты и половины от общего числа аудиторов Счетной палаты по представлению Президента Российской Федерации;
- И) утверждение по представлению президента Российской Федерации кандидатуры Председателя правительства Российской Федерации;
- К) назначение на должность и освобождение от должности Уполномоченного по правам человека.

Ответ: А, В, Д, Ж, З.

По 1 баллу за каждый верный ответ. Максимум за задание – 5 баллов.

Задание 3. Замените выделенный курсивом фрагмент фразы соответствующим ему обществоведческим термином.

- А) В современной экономике особое значение приобретает деятельность небольших *предприятий, специализирующихся на создании и внедрении в производство новейших образцов техники и технологий, сопряженная с серьезным экономическим риском.*
- Б) Принято считать, что начало научному исследованию *процесса возникновения и развития человека как социального существа* было положено в XIX веке.
- В) Наличие развитой системы *целостного представления о мире и месте в нем человека, а также обусловленных этими представлениями убеждений, идеалов и ценностей* свидетельствует о зрелости личности.

Ответ:

- А) _____
- Б) _____
- В) _____

Ответ:

- А) венчурных предприятий;
- Б) антропогенез;
- В) мировоззрения.

По 1 баллу за каждое правильно записанное слово. Максимальная оценка - 3 балла.

Задание 4. Решите логическую задачу.

Во время урока учитель Аркадий Петрович раздал школьникам самостоятельные работы. Один из школьников, Иван, оказался озадачен выставленной оценкой. Он обратился к учителю, чтобы оспорить поставленную ему оценку, на что тот резонно заметил, что во фрагменте рассуждений, представленных учеником в его работе, пропущено заключение, которое теперь Ивану нужно восстановить. Вот этот фрагмент:

Каждый математик быстро и точно считает. Некоторые образованные люди не могут быстро и точно считать.

«Помните, что в любом вашем суждении имеются части – логическое подлежащее и логическое сказуемое. Логическое подлежащее (субъект) – это то, о чём идёт речь в суждении; логическое сказуемое (предикат) – это то, что говорится о логическом подлежащем», – сказал учитель. «А ещё связь между логическим подлежащим и логическим сказуемым заключения обосновывается в посылках», – подхватил Иван. «И, как мне думается, вы хотели сделать какой-то вывод относительно образованных людей», – предположил Аркадий Петрович. «Да, именно так», – подтвердил ученик.

Какое заключение пропустил Иван в своём рассуждении? Ответ обоснуйте.

Ответ. Следовательно, некоторые образованные люди не являются математиками (2 балла).

Обоснование. 1. Согласно последним словам учителя, логическим подлежащим в пропущенном заключении будет являться термин «образованные люди». Значит, термин «быстро и точно считать» будет являться термином, через который обосновывается связь между логическим подлежащим и сказуемым заключения (2 балла).

2. В суждении «Некоторые образованные люди не могут быстро и точно считать» утверждается, что некоторые из тех, кто является образованными людьми не относятся к тем, кто быстро и точно считает (2 балла).

3. Из вышесказанного следует, что в пропущенном суждении должны присутствовать термины «образованные люди» и «математики». Так как одна из посылок отрицательная (отрицается наличие связи между логическим подлежащим и сказуемым в суждении), заключение также должно быть отрицательным. Из вышеуказанных шагов рассуждения, вытекает что пропущенное суждение будет следующим: «Некоторые образованные люди не являются математиками» (2 балла).

Любое схожее полное и логически согласованное решение следует засчитывать как правильное.

Максимум за задание – 8 баллов.

Задание 5. Каждый человек живущий в большом городе должен знать правила дорожного движения. Выберите (перечеркните крестом) юридически верное завершение утверждения:

5.1 Установленный факт употребления водителем вызывающих алкогольное опьянение веществ определяется наличием в его организме абсолютного этилового спирта в концентрации, превышающей:	0,16 миллиграмма на один литр выдыхаемого воздуха
5.2 Владелец транспортного средства обязан возместить вред, причинённый этим транспортным средством, если не докажет, что вред возник:	вследствие непреодолимой силы или умысла потерпевшего
5.3 Административная ответственность установлена за нарушение Правил дорожного движения или правил эксплуатации транспортного средства, повлекшее причинение:	легкого или средней тяжести вреда здоровью человека
5.4 Уголовная ответственность предусмотрена за управление транспортным средством, не повлекшее причинение тяжкого вреда здоровью или смерть человека, лицом, находящимся в состоянии опьянения, если оно ранее было подвергнуто административному наказанию:	за совершение любого из перечисленных правонарушений
5.5 За оставление водителем в нарушение ПДД места дорожно-транспортного происшествия, участником которого он является, ему грозит:	лишение права управления транспортными средствами на срок от 1 года до 1,5 лет или административный арест на срок до 15 суток

Каждый правильный ответ – 2 балла.

Максимум за задание – 10 баллов.

Задание 6. Решите экономическую задачу.

Бизнесмен Иван Иванович планирует летний отпуск. Из всех имевшихся альтернатив он остановился на двух: отправиться на курорты Краснодарского края или отказаться от отдыха и поработать. Стоимость билетов на море и обратно составляет суммарно 1300 денег, стоимость проживания в отеле по тарифу «Всё включено» – 2000 денег. Иных расходов в отпуске Иван Иванович нести не планирует. Если же бизнесмен никуда не полетит, а останется работать, то его жизнь продолжит идти своим чередом: в среднем Иван Иванович в день зарабатывает 300 денег, а тратит – около 100 денег.

Но он устал за этот год и отдых пойдёт бизнесмену на пользу: он наберётся сил и сможет работать эффективнее. Это позволит ему в следующем году увеличить свой совокупный доход на 7000 денег.

Отпуск Ивана Ивановича продлится 18 дней. Чему будет равна упущенная выгода бизнесмена за год в деньгах, если он решит НЕ ехать в отпуск?

Ответ: 100.

Решение:

Стоимость билетов и проживания в отеле (1300 + 2000). Но если бы бизнесмен поехал в отпуск, то он бы увеличил свой доход на 7000 д. Тогда прямая выгода от поездки в отпуск равна $7000 - 3300 = 3700$.



Заработанные за время отпуска деньги $18 \times (300 - 100) = 3600$.

Тогда упущенная выгода равна 100 д.

Максимальная оценка за задание – 4 балла, верный ответ без решения оценивается в 2 балла.

Задание 7. Соотнесите названия международных организаций и их эмблемы.

1. Всемирная организация интеллектуальной собственности
2. Шанхайская организация сотрудничества
3. Организация стран - экспортёров нефти
4. Международное агентство по атомной энергии
5. Всемирная организация здравоохранения
6. Всемирная метеорологическая организация
7. Совет государств Балтийского моря
8. Организация Договора о коллективной безопасности
9. Организация по безопасности и сотрудничеству в Европе
10. Содружество Независимых Государств

<p data-bbox="240 1848 279 1881">А.</p> 	<p data-bbox="866 1417 904 1451">Б.</p> 
---	--

В.



Г.



Д.



Е.



Ж.



З.



И.



К.



Ответ:

1	2	3	4	5	6	7	8	9	10
К	Б	Ж	Г	З	Е	В	Г	Д	А

По 1 баллу за каждый верный ответ. Максимум за задание – 10 баллов.

Задание 8. Вставьте пропущенное слово

А. Философское учение, утверждающее опыт в качестве приоритетного способа получения знаний - ...

Б. Отношения между усыновителем и усыновлённым, бабушкой и внуками регулируются нормами ... права.

В. Нормы ... состоят из гипотезы, диспозиции и санкции и подразделяются на императивные и диспозитивные.

Г. Форма социальной общности, когда люди, её составляющие, проживают вне страны происхождения, но сохраняют идентичность со своей Родиной, образуют сплочённые и устойчивые этнические группы, называется ...

Д. Социальная роль представляет собой динамическую характеристику ..., особенности исполнения предписываемых ... действий конкретным человеком.

Е. Наиболее часто встречающийся в конкретном обществе тип личности обозначается термином ... личность.

Ж. Сознание является непосредственным продолжением и наиболее сложной формой проявления такого всеобщего свойства материи как ...

З. «... мира» - это сложившаяся на конкретном этапе развития человечества совокупность представлений о структуре окружающей человека действительности, способах её функционирования и развития.

И. Карл Маркс считал, что ... стоимость – стоимость, создаваемая неоплаченным трудом рабочего сверх стоимости его рабочей силы и безвозмездно присваиваемая капиталистом.

К. Смещение кривой производственных возможностей ... наблюдается в период экономических кризисов, спадов производства, структурных кризисов.

Ответ:

А. _____

Б. _____

В. _____

Г. _____

Д. _____

Е. _____

Ж. _____

З. _____

И. _____

К. _____

Ответ: А. эмпиризм, Б. семейного, В. права, Г. диаспора, Д. статус, Е. модальная, Ж. отражение, З. картина, И. прибавочная, К. влево.

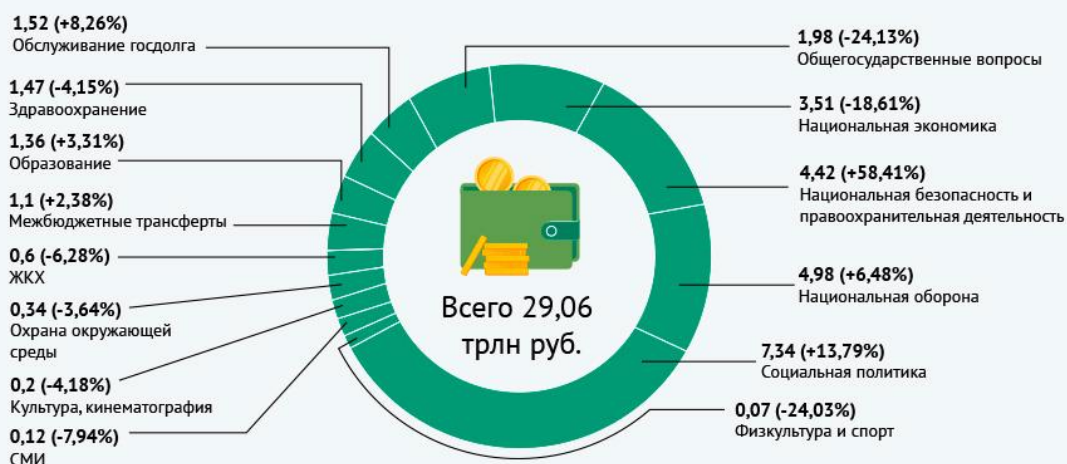
По 1 баллу за верный ответ, всего 10 баллов.

Задание 9. Проанализируйте данные инфорграфики предоставленные крупнейшей еженедельной общественно-политической газетой России. На их основе оцените верность представленных в таблице утверждений. Свой ответ кратко обоснуйте.

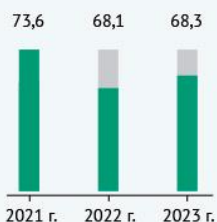
Проект федерального бюджета-2023 в цифрах



Какие будут расходы в 2023 г. (трлн руб., % по сравнению с 2022 г.)



Курс рубля к доллару США



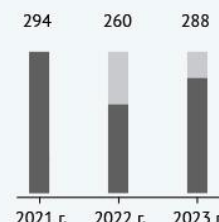
Инфляция



Экспорт (млрд долл.)



Импорт (млрд долл.)



Источник: Проект бюджета на 2023 год и плановый период 2024 и 2025 годов

Утверждение	Верно или нет	Обоснование
ФБГУ «Российская газета» опубликовавшая данную инфографику для продвижения информации так же использует	Не верно	Данную инфографику опубликовала газета: «Аргументы и факты», а не «Российская газета» (об этом свидетельствуют выходные данные внизу документа).

социальные сети, мессенджеры и интернет.		
По сравнению с 2021 годом в 2022 году импорт сократился на 34 млрд. руб.	Не верно	Информация об импорте представлена диаграмме не в рублях, а в долларах
Расходы государственного бюджета на правоохранительную деятельность в 2023 менялись не существенно.	Не верно	Исходя из данных расходы увеличились по сравнению с предыдущим годом на 58,41 %

1 балл за верный ответ, 1 балл за верное обоснование. Всего 6 баллов.

Задание 10. Распределите указанные расходы по двум группам, озаглавьте каждую из них.

- А) затраты на техническое обслуживание машин и оборудования;
- Б) расходы на транспортировку товаров;
- В) оплата труда производственных рабочих;
- Г) оплата труда управляющего персонала предприятия;
- Д) оплата электроэнергии, используемой для приведения в действие производственного оборудования;
- Е) арендная плата за пользование зданиями;
- Ж) расходы на приобретение сырья;
- З) расходы на обеспечение охраны предприятия;
- И) оплата услуг телефонной и Интернет-связи.

Ответ:

Ответ:

Постоянные издержки	Переменные издержки
А, Г, Е, З, И	Б, В, Д, Ж,

2 балла за указание верного названия групп, 4 балла – при отсутствии ошибок в распределении. 3 балла – при ошибке в распределении одного элемента.

2 балл – при ошибке в распределении 2-3 элементов. 1 балл – при ошибке в распределении 4-5 элементов.

Максимальная оценка за задание – 6 баллов.

ВТОРОЙ ТУР

Задание 11. Прочитайте выдержки из статьи опубликованной на официальном сайте Московской городской организации КПРФ и ответьте на вопросы.

Ровно 100 лет назад в книге «_____», как высшая стадия капитализма», которую изучали в Советском Союзе во всех вузах, В.И. Ленин выявил пять основных экономических признаков _____ как «высшей» и «последней» стадии капитализма. Это:

- 1) Концентрация производства и капитала, дошедшая до такой высокой ступени развития, что она создала монополии, играющие решающую роль в хозяйственной жизни.
- 2) Слияние банковского капитала с промышленным и создание на базе этого «финансового капитала» финансовой олигархии.
- 3) Более важное значение вывоза капитала по сравнению с вывозом товаров.
- 4) Образование международных монополистических союзов капиталистов, осуществляющих передел мира.
- 5) Конец территориального раздела земли крупнейшими капиталистическими державами. <...>

Сегодня изменился каждый из пяти экономических признаков _____. Но приглядимся повнимательнее к четвертому, наиболее актуальному сегодня признаку — как выясняется, самому небезопасному для мира. Этому признаку посвящена пятая глава книги, которая называется «Раздел мира между союзами капиталистов». Глава начинается следующими словами: «Монополистические союзы капиталистов, картели, синдикаты, тресты, делят между собою, прежде всего, внутренний рынок, захватывая производство данной страны в своё, более или менее полное, обладание. Но внутренний рынок, при капитализме, неизбежно связан с внешним. Капитализм давно создал всемирный рынок. И по мере того, как рос вывоз капитала и расширялись всячески заграничные и колониальные связи и «сферы влияния» крупнейших монополистических союзов, дело «естественно» подходило к всемирному соглашению между ними, к образованию международных картелей». <...>

Пожалуй, наиболее важный политический вывод, который содержится в анализе Лениным четвертого экономического признака _____,

заключается в том, что международные картели представляют собой угрозу для мира, являются источниками войн. <...>

11.1 Какой термин пропущен в тексте:

Ответ: империализм

Правильный ответ 2 балла.

11.2 На основе первого признака выделенного В.И. Лениным назовите пример современных международных монополий

Ответ: «Ройял датч — Шелл», «Нестле» (могут быть названы любые другие варианты)

Правильный ответ 2 балла.

11.3 В тексте упомянуты такие монополистические союзы капиталистов как картели, синдикаты, тресты дайте определение каждого из них.

Ответ:

Картель — объединение предприятий, сохраняющих финансовую и производственную самостоятельность, занимающееся ценообразованием, определением объемов производства и разграничением рынков сбыта;

Синдикат — объединение предприятий, сохраняющих юридическую, финансовую и производственную самостоятельность, занимающееся организацией централизованного сбыта продукции;

Трест — объединение предприятий, в которых происходило полное объединение собственности с целью совместного производства и сбыта продукции;

Каждое правильное определение 2 балла. Всего 6 баллов

11.4 Какая «более современная» форма монополистического союза не упомянута в тексте? Дайте её название и определение.

Ответ: Концерн — финансово-промышленная группа предприятий, сохраняющих юридическую и хозяйственную самостоятельность, при условии координации действий со стороны доминирующих финансовых структур.

Правильно названная форма – 2 балла, правильное определение 2 балла. Всего 4 балла.

11.5 В тексте содержится утверждение о том, что международные картели представляют собой угрозу для мира, являются источниками войн. Согласны ли вы с этим утверждением? Свой ответ обоснуйте. Приведите два факта в подтверждение.

Обоснование:

Факт 1:

Факт 2:

Логически верное обоснование – 2 балла, корректно приведенный факт – 2 балла. Всего 6 баллов.

11.6 Спрогнозируйте дальнейшее развитие капитализма. Назовите две позитивных и две негативных черты возможного развития.

Позитивные черты.

1)

2)

Негативные черты.

1)

2)

*За каждую уместную логически обоснованную черту – 2 балла.
Всего 8 баллов.*

Максимальная оценка за задания Второго тура – 28 баллов.

Максимальный балл за всю работу – 100.