

БЛАНК ОТВЕТОВ

Всероссийская олимпиада школьников по предмету
«Физическая культура»
Школьный этап 2024-2025 учебный год
5-6 класс

Автомакс

МБОУ Школа №1
Шифр ФК-6-7
Класс 6Б

№ 1-15. Задания в закрытой форме

Номер задания	Ответ
1.	в+
2.	в+
3.	
4.	в+
5.	а-
6.	в, 2+
7.	2-
8.	в-
9.	2+
10.	в+
11.	а-
12.	в-
13.	в в-
14.	в, 2, в, а-
15.	2-

№ 16-18. Задания в открытой форме

Номер задания	Ответ
16.	физ минутка
17.	мигус одно
18.	зарядка

№19.. Задания на установление соответствия

1	2	3	4	5	6
Г	Е	А	В	Б	А

№20. Задания с иллюстрациями.

<i>Бегущий</i>	<i>перешаг</i>	<i>лыжи</i>	<i>соросей</i>	<i>микрон-ное катание</i>	<i>сештон</i>
----------------	----------------	-------------	----------------	---------------------------	---------------


Оценка (балл) _____
Подписи жюри _____

I. Задания в закрытой форме.

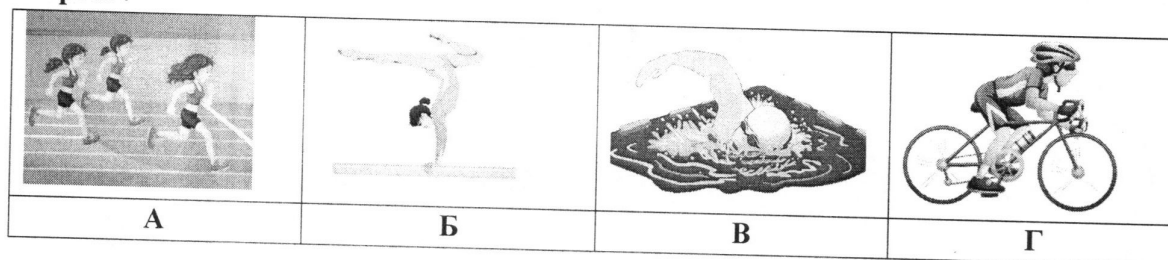
Задание 1. [1 балл] Кого в Древней Греции называли олимпиониками?

- а) жителей Олимпии
б) участников Олимпийских игр
в) победителей Олимпийских игр
г) судей Олимпийских игр

Задание 2. [1 балл] На каком рисунке изображена олимпийская эмблема?



Задание 3. [1 балл] Какую дисциплину летних Олимпийских игр называют «Королевой спорта»?



Задание 4. [1 балл] Какое основное физическое качество необходимо в беге на длинные дистанции?

- а) ловкость
б) быстрота
в) выносливость
г) гибкость

Задание 5. [1 балл] Как называется данное исходное положение?



- а) упор сидя
б) упор присев
в) присед
г) группировка

Задание 6. [1 балл] Что необходимо сделать при оказании первой помощи, если на занятии школьник растянул мышцу? Отметьте все позиции.

- а) обработать перекисью водорода
б) наклеить пластырь
в) наложить тугую повязку
г) наложить холодный компресс







Задание 7. [1 балл] Основной формой физического воспитания в общеобразовательных учреждениях является...

- а) физкультминутки
б) внеурочные занятия
в) урок
г) тренировочные занятия

IV. Задание с иллюстрациями.

Задание 20. [1 балл за каждую правильную позицию]

Согласно пинтограмм напишите виды спорта

					
лыжи		лыжи	хоккей	С. К.	





Поздравляем!

Задание 8. [1 балл] Профилактика нарушений осанки осуществляется с помощью:

- а) скоростных упражнений б) упражнений на гибкость
 в) силовых упражнений г) упражнений на «выносливость»

Задание 9. [1 балл] Соотнеси способы плавания и их изображения. Выбери верное соответствие.

1. Брасс
2. Кроль на спине
3. Кроль на груди
4. Баттерфляй

			
2 А	4 Б	3 В	1 Г

- а) 1А, 2В, 3Г, 4Б б) 1Б, 2В, 3А, 4Г
 в) 1В, 2Г, 3Б, 4А г) 1Г, 2А, 3В, 4Б

Задание 10. [1 балл] К видам легкой атлетики не относится...

- а) тройной прыжок б) прыжок в высоту
 в) опорный прыжок г) прыжок в длину

Задание 11. [1 балл] Награда, вручаемая учащимся за выполнение нормативов комплекса ГТО это:

- а) медаль б) знак отличия
 в) грамота г) сертификат

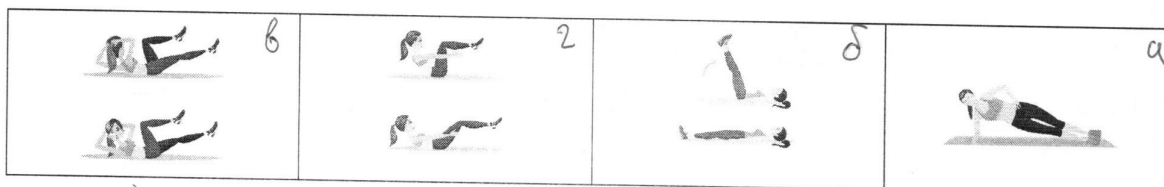
Задание 12. [1 балл] Победа в волейболе присуждается команде выигравшей в

- а) 2 партиях б) 5 партиях
 в) 3 партиях г) 1 партии

Задание 13. [1 балл] С какого способа начинается обучение лыжным ходам в 1-2 классе?

- а) ступающий шаг б) попеременный двухшажный ход
 в) скользящий шаг г) одновременный бесшажный ход

Задание 14. [1 балл] Рассмотрите картинки. Для развития каких мышечных групп используются данные упражнения?



- а) мышц рук б) мышц ног
 в) мышц спины г) мышц живота

Задание 15. [1 балл] В шахматах название какой фигуры в переводе с персидского означает «великий, мудрый»?

- а) ферзь б) слон
в) король г) ладья

II. Задания в открытой форме.

Задание 16. [2 балла] Двигательные действия учащихся, выполняемые одновременно всем классом, группами учащихся или отдельными учениками это

Задание 17. [2 балла] В баскетболе за попадание штрафного броска начисляется _____ очко.
лишь одно






Задание 18. [2 балла] Комплекс физических упражнений, выполнение которых помогает разбудить организм, зарядить его силой, бодростью, энергией на целый день называется ...

зарядка

III. Задание на установление соответствия.

Задание 19. [1 балл за каждую правильную позицию]

Установите соответствие между видами спорта и изображением спортивного инвентаря, применяемого в этих видах спорта.

Вид спорта		Инвентарь		
1	Лыжный спорт	Г	А	
2	Гимнастика	Е	Б	
3	Настольный теннис	Д	В	
4	Футбол	В	Г	
5	Баскетбол	Б	Д	
6	Легкая атлетика	А	Е	